

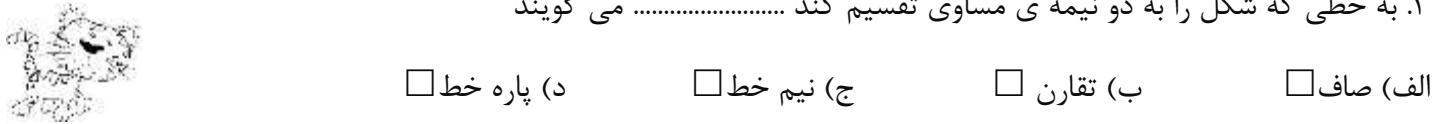
۱. در کدام شکل زیر تقارن چهار قسمتی وجود دارد؟



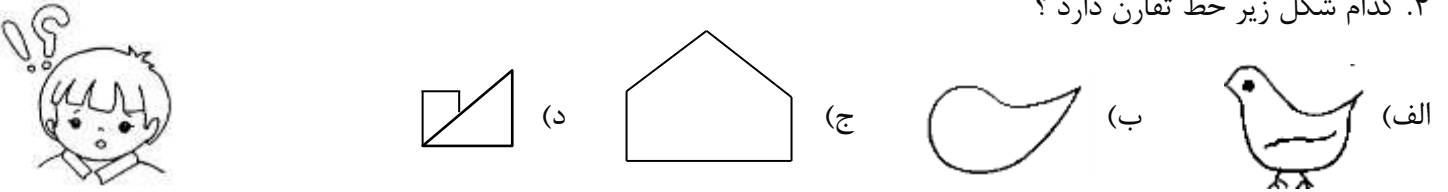
۲. تفاوت دو شکل مقابل در چیست؟



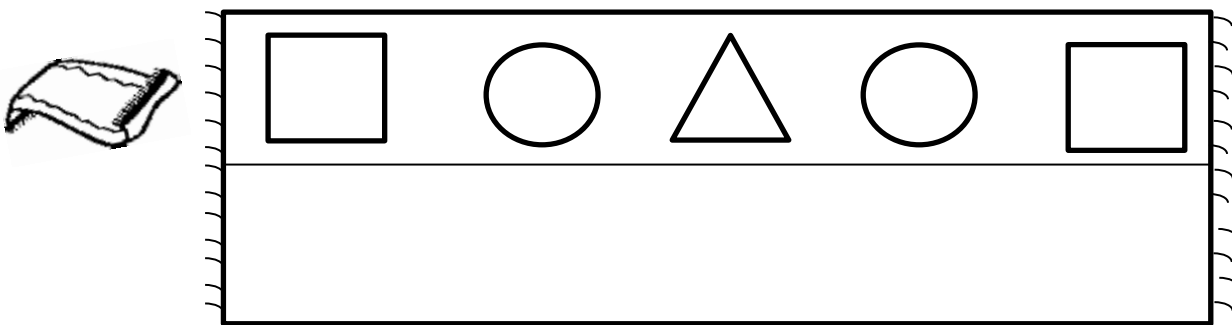
۳. به خطی که شکل را به دو نیمه ی مساوی تقسیم کند می گویند



۴. کدام شکل زیر خط تقارن دارد؟



۵. نیمه ی دیگر فرش را با کمک شابلون کامل کن .




۶. چند دقیقه به ساعت ۴ مانده است ؟ دقیقه
ساعت و دقیقه است .



۷. دخترم، با یک خط این مستطیل را به دو مثلث تبدیل کن .



۸. با ۲ خط، مربع را به ۴ مربع هم اندازه تبدیل کن.



۹. در جاهای خالی علامت مناسب بگذار. ($<$ $=$ $>$)



۴ ده تایی و ۳ یکی \square ۳ دسته ی ده تایی و ۴ یکی

$۸۰ - ۲۰ \square ۲۰ + ۴۰$

$۲۰ + ۱۰ + ۵ \square ۶۰ - ۳۰$

$(۸ + ۲) + ۵ \square ۸ + (۲ + ۷)$

۱۰. الگوی عددی زیر را ادامه بده.

۱۵ - ۱۷ - ۲۰ - - -

۸۲ - ۷۲ - - -

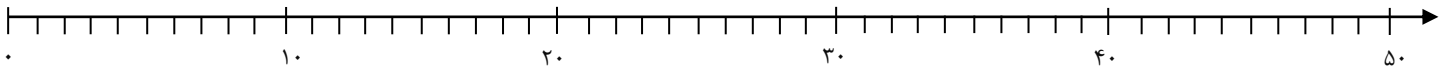
۳۲ - ۳۵ - ۳۹ - -
 $\xrightarrow{+3}$ $\xrightarrow{+4}$ $\xrightarrow{+5}$



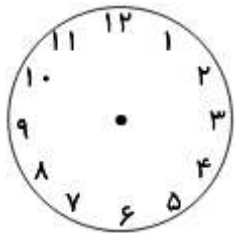
۱۱. مینا ۲۵ ریال و زهرا ۶۷ ریال پول دارند. آن ها روی هم چند ریال پول دارند؟ (فرآیندی)



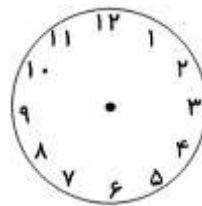
۱۲. اعداد ۲۳، ۴۵، ۱۹، ۳۵ را روی محور نشان بده.



۱۳. زمان های زیر را روی هر ساعت نشان بده.




یک ربع مانده به ۲




یک ربع بعد از ۱۰

۱۳- زمانی را که ساعت نشان می دهد به دو صورت نشان بده.



ساعت و دقیقه

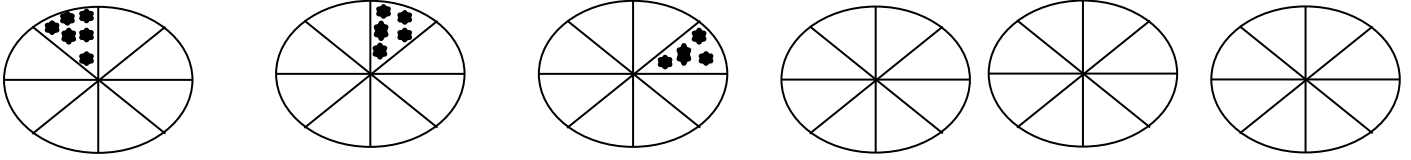
ساعت



ساعت و دقیقه

ساعت

۱۴. الگوی زیر را ادامه بده .



*۱۵. اختلاف بیشترین و کم ترین عدد نوشته شده بر روی کارت های زیر کدام است ؟

هـ) ۸

د) ۹

ج) ۷

ب) ۵

الف) ۳

